



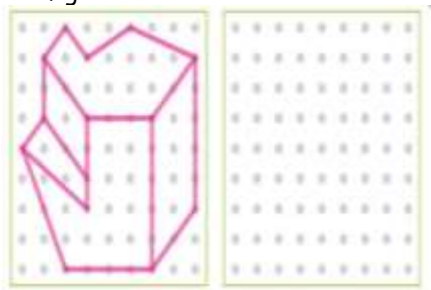
QUINTO

LUNES

2. **FESTIVO**

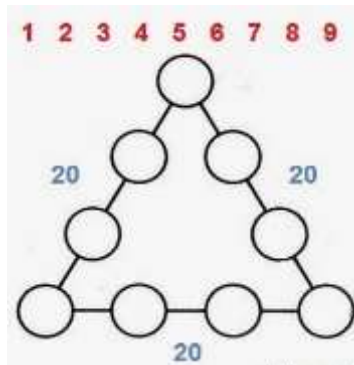
MARTES

3. PERCEPCION VISUAL
Copia la figura en la cuadrícula derecha



MIÉRCOLES

4. RAZONAMIENTO LOGICO
Ubica los números de tal forma que la suma por sus tres lados sea 20



JUEVES

5. ATENCION
Completa

17	-	19	+	12	×	5	+	15	=	
+		×		-		-		-		
11	×	24	-	9	-	6	-	25	=	
×		+		×		-		×		
21	÷	3	-	4	-	23	+	2	=	
-		-		×		=		-		
14	×	13	+	8	+	1	×	10	=	
-		×		+		×		+		
22	-	20	-	18	-	16	×	7	=	
=		=		=		=		=		

VIERNES

6. CONCENTRACION
Descifra

Descifra el mensaje
A secev someerc
euq al adiv son
ecid ON, y olos
son ecid AREPSE

9. RAZONAMIENTO LOGICO

¿Qué fracción representa la figura?

- 1) _____
- 2) _____
- 3) _____
- 4) _____
- 5) _____
- 6) _____
- 7) _____
- 8) _____
- 9) _____
- 10) _____

10. ATENCION

Resuelve

+ + = 30
 + + = 20
 + + = 9
 + x = ?

11. CONCENTRACION



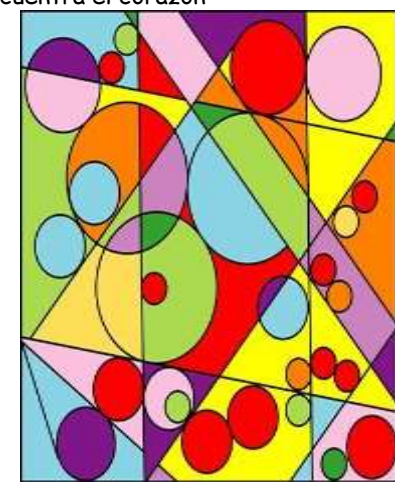
12. RAZONAMIENTO LOGICO

Completa y resuelve

2			8
×			
—			
8	0	7	2

13. PERCEPCION VISUAL

Encuentra el corazón





16.

FESTIVO

17. PERCEPCION VISUAL

¿Qué encuentras en la imagen?



18. CONCENTRACIÓN

Encuentra 19 países

C O R A A I D N I D V L Q F U
D J N N L P N S B F G M Z Y J
E G H G A U S T R A L I A U D
O B O O G Q U E N I A Y V Y X
H D L L U F A A N D O R R A W
C F A A T L R H C I T A L I A
C S N T R T U P N G N M R I D
Z T D S O T H X G A A E S T T
M W A L P J U E E R M E N K D
I A Q I T C S R R M N E J T E
C T L M S P H O Q O B H L T R
H D E A A S C I D U V U W A A
I S C N S O U N N R I H R E D
L M H S S I I R G A B A B G Y
E A N D L Z A B R A S I L Y O

19. MEMORIA

Escribe una palabra por cada letra del abecedario

A _____	N _____
B _____	O _____
C _____	P _____
D _____	Q _____
E _____	R _____
F _____	S _____
G _____	T _____
H _____	U _____
I _____	V _____
J _____	W _____
K _____	X _____
L _____	Y _____
M _____	Z _____

20. ATENCIÓN

Colorea los cuerpos geométricos

