

Fecha: (1-A): _____

(1-B): _____

Clase: 9-10

ETAPA: DESARROLLO

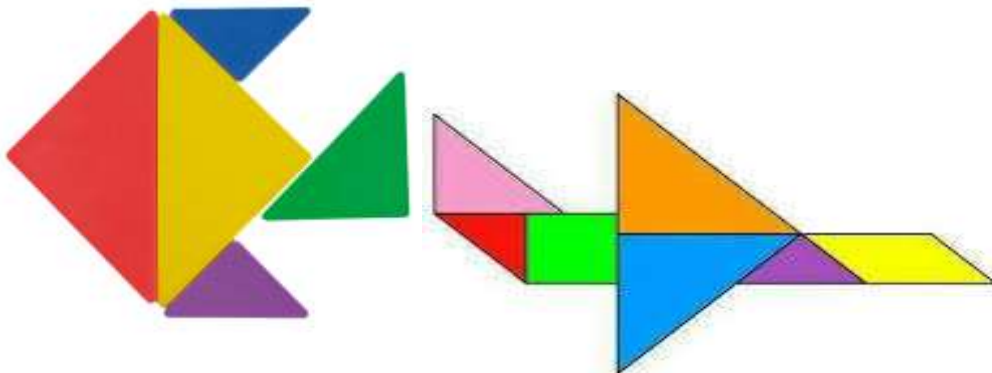

Fase: REESTRUCTURACIÓN DEL CONOCIMIENTO

PROPÓSITO: Conocer que es una serie y un patrón por medio de ejercicios e ideogramas.

ALISTA TUS MATERIALES

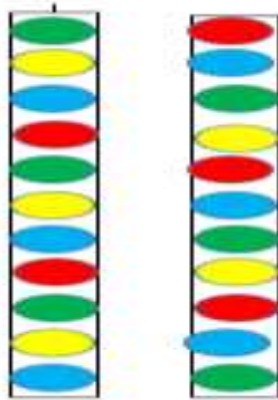
EJERCICIOS

- 1) Con tus figuras geométricas repite la siguiente imagen y pégalas en tu cuaderno.

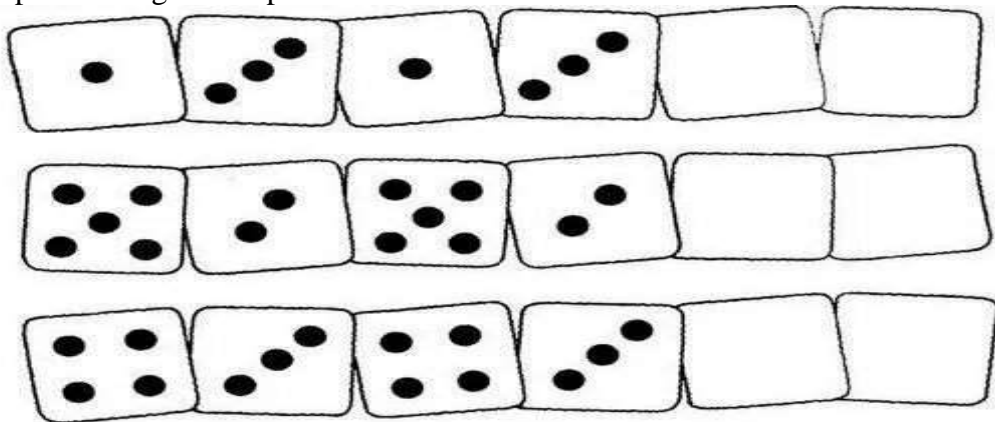


- 2) Realiza las siguientes series de colores. Para esto necesitas las chaquiras y el palo de pincho. Debes poner en las chaquiras en el palo de pincho en el orden que aparecen a continuación.

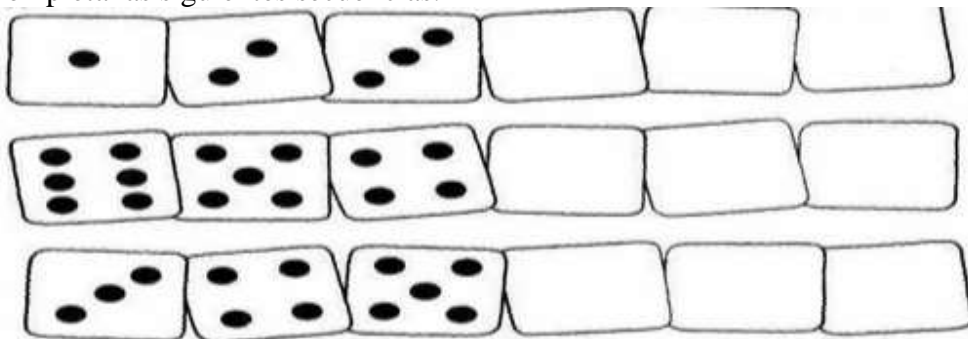
Dimensión	Principio metodológico
Cognitiva	Uso de ideogramas Desarrollo de habilidades expresivas Desarrollo de habilidades /
Física	Enseñanza de procedimientos precisos



3) Completa los siguientes patrones



4) Completa las siguientes secuencias.



5) Completa los siguientes mentefactos nocionales de acuerdo con la información dada en clase



