

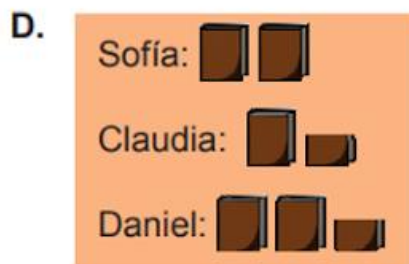


TALLER EN CLASE

1. Sofía, Claudia y Daniel se reúnen a leer cuentos, Sofía lleva 4 libros, Claudia 3 y Daniel 5. *

Un gráfico que muestra la cantidad de libros si  representa 2 libros y  representa 1 libro es



A

B

C

D

2. Tres niños hacen una tarea de matemáticas y al final dicen cuánto se demoraron



De las siguientes afirmaciones la única verdadera es

- A. Andrea fue la que menos se demoró.
- B. Santiago fue el que más se demoró.
- C. Alejandra fue la que menos se demoró.
- D. todos se demoraron lo mismo

3. La señora Juana compra 3 bandejas con pasteles. Las bandejas son como se muestra en la figura... La cantidad de pasteles que compró la señora Juana es: *

1 punto



- A. 6
- B. 18
- C. 24
- D. 54